

1249/1  
SEJARAH  
KERTAS 1  
NOVEMBER 2022  
1 JAM

NO KAD PENGENALAN

						-						
--	--	--	--	--	--	---	--	--	--	--	--	--

Nama Pelajar : .....

Tingkatan : .....



**MAJLIS PENGETUA SEKOLAH MALAYSIA (MPSM)  
(CAWANGAN KELANTAN)**

---

**PERCUBAAN SPM  
2022**

---

**SEJARAH  
KERTAS 1  
MASA : SATU JAM**

---

**ARAHAN:**

1. Kertas ini mengandungi **40** soalan.
2. Jawab **semua** soalan.
3. Tiap-tiap soalan diikuti oleh empat pilihan jawapan iaitu **A,B,C dan D**. Pilih satu jawapan yang terbaik bagi setiap soalan dan hitamkan ruangan yang sepadan pada kertas jawapan objektif anda.
4. Jika anda hendak menukar jawapan, sila padamkan lorekan yang telah dibuat. Kemudian hitamkan jawapan yang baharu.

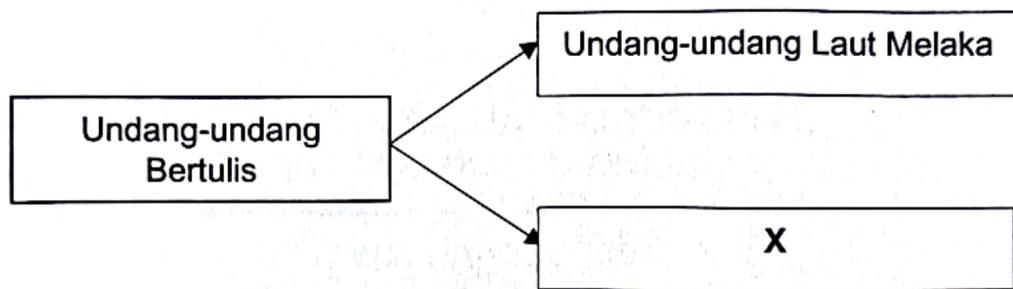
---

Kertas soalan ini mengandungi **18** halaman bercetak

1. Apakah yang dimaksudkan Kawasan Pegangan dalam sistem pentadbiran Kesultanan Melayu Melaka?

- A Menentukan hak wilayah
- B Memberi kuasa memerintah
- C Menetapkan kawasan sempadan
- D Mendapatkan kuasa perdagangan

2. Rajah berikut merupakan sistem perundangan yang diamalkan oleh Kesultanan Melayu Melaka.



Apakah X?

- A Undang-undang Temenggung
- B Hukum Kanun Jenayah
- C Hukum Kanun Melaka
- D Undang-undang adat

3. Tokoh berikut merupakan pemimpin parti Do Bama Asiayone di Burma.

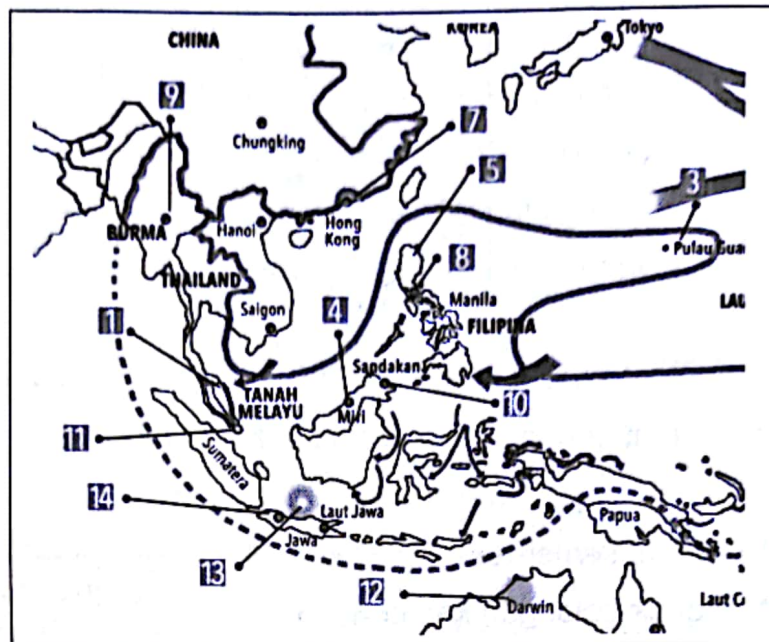


Aung San

Apakah matlamat perjuangan tokoh tersebut?

- A Menuntut kemerdekaan
  - B Mengusir golongan kapitalis
  - C Menamatkan pemberontakan
  - D Mewujudkan golongan pertengahan
4. Bagaimakah cara untuk mengukuhkan peluang berpolitik orang Melayu kesan daripada perkembangan nasionalisme?
- A Meminta bantuan negara luar
  - B Mendapat kerjasama daripada pihak kerajaan
  - C Menyuarakan hasrat politik dengan berpersatuan
  - D Memperoleh strategi berkesan daripada pemimpin
5. Perang Dunia Pertama turut memberi kesan kepada Tanah Melayu. Bagaimanakah British mengambil peluang di sebalik perang tersebut?
- A Memaju sistem perhubungan
  - B Menguasai bidang pendidikan
  - C Manipulasi sumber ekonomi
  - D Membahagi kuasa pembesar

6. Peta berikut menunjukkan serangan tentera Jepun dalam Perang Dunia Kedua di Asia Pasifik pada tahun 1941-1945.




Mengapakah Jepun melancarkan serangan ke atas Pearl Harbour Amerika Syarikat dalam tempoh tersebut?

- A Meluaskan kuasa  
 B Memenuhi tuntutan  
 C Sebagai serangan balas  
 D Desakan pemimpin atasan
7. Manakah yang berikut merupakan akhbar yang membuat bantahan terhadap Malayan Union?
- I Majlis  
 II Utusan Melayu  
 III Fajar Sarawak  
 IV Suara Rakyat
- A I dan II  
 B I dan IV  
 C II dan III  
 D III dan IV



8. Mengapakah penyerahan Sabah kepada British tidak mendapat bantahan daripada penduduk?
- A Menjejaskan ekonomi
  - B Gerakan nasionalisme ditindas
  - C Tidak mahu melanggar perjanjian
  - D Bertentangan dengan Perlembagaan Negeri
9. Mengapakah pihak British menyokong penubuhan Persekutuan Tanah Melayu 1948?
- A Menjamin kestabilan politik
  - B Mengatasi ancaman ekonomi
  - C Mengurangkan beban kewangan
  - D Mengurangkan kuasa raja-raja Melayu
10. Apakah faedah yang diperolehi kepada masyarakat tempatan hasil daripada penubuhan Persekutuan Tanah Melayu 1948?
- A Berakhirnya zaman darurat
  - B Pengekalan prinsip Jus Soli
  - C Mengukuh perpaduan kaum
  - D Kemunculan golongan radikal

11. Gambar berikut merupakan satu tindakan ganas yang dilakukan oleh komunis



Apakah kesan kepada penduduk tempatan daripada tindakan tersebut?

- A Rakyat menderita
- B Berhijrah ke bandar
- C Mencari pekerjaan baru
- D Penularan wabak penyakit

12. Maklumat berikut berkaitan dengan langkah kerajaan menangani ancaman komunis di Tanah Melayu.

- Menggeledah rumah kediaman
- Mengadakan perintah berkurung

Bagaimanakah tindakan tersebut dilakukan?

- A Akta kawalan prnyakit berjangkit
- B Melalui peristiwa Sungkit Berdarah
- C Kempen bulan rakyat melawan penjahat
- D Penguatkuasaan Undang-undang Darurat

13. Mengapakah Jawatankuasa Hubungan Antara Kaum atau Communities Liaison Committee (CLC) ditubuhkan di Tanah Melayu pada Januari 1949?

- A Memupuk perpaduan kaum
- B Mendapat hak sama rata
- C Mengelakkan kekacauan
- D Melicinkan pentadbiran

14. Pilih pasangan yang betul berkaitan senarai ahli yang memegang jawatan dalam Sistem Ahli pada bulan April 1951 – 1955.

A	Dato' Onn Jaafar	Ahli Pertanian dan Perhutanan
B	H.S. Lee	Ahli Kesihatan
C	Lee Tiang Keng	Ahli Pengangkutan
D	E.E.C. Thuraisingham	Ahli Pelajaran

15. Pilihan raya Majlis Perundangan Persekutuan 1955 diadakan sebagai langkah awal ke arah kemerdekaan.

Apakah faktor yang membolehkan pilihan raya tersebut diadakan?

- A Penubuhan parti politik
  - B Ancaman daripada komunis
  - C Desakan oleh Majlis Raja -Raja
  - D Rang Undang-undang diluluskan
16. Petikan berikut merupakan kata-kata Tunku Abdul Rahman dalam ucapannya pada pada 31 Ogos 1955.


**“hari yang amat penting dalam sejarah Majlis ini”**

Apakah rumusan yang dapat dibuat berdasarkan kata-kata tersebut?

- A Menyatakan tarikh kemerdekaan
- B Mengistiharkan penamatan darurat
- C Meraikan kejayaan dalam pilihan raya
- D Megumumkan kejayaan pembentukan Malaysia



17. Tokoh berikut adalah anggota suruhanjaya Reid.



Apakah peranan suruhanjaya tersebut?

- A Menganjur Konvensyen Kebangsaan
- B Merangka perlembagaan persekutuan
- C Mengkaji kemasukan Sarawak dan Sabah
- D Mengetuai rombongan kemerdekaan ke London


18. Manakah yang berikut berkaitan dengan syarat kewarganegaraan berdasarkan intipati Perjanjian Persekutuan Tanah Melayu 1957.

- I Memohon didaftarkan sebagai rakyat
- II Penguatkuasaan undang-undang
- III Berdasarkan prinsip jus soli
- IV Berdasarkan tempat lahir

- A I dan II
- B I dan IV
- C II dan III
- D III dan IV



19. Gambar berikut berkaitan dengan persediaan fizikal sempena pemasyhuran kemerdekaan.



Apakah nilai yang boleh digambarkan melalui persediaan tersebut?

- A Berilmu
- B Kerajinan
- C Berwaspada
- D Kesungguhan

20. Maklumat berikut berkaitan dengan langkah Tunku Abdul Rahman selepas negara mencapai kemerdekaan.

- Mengekalkan hubungan baik dengan Britian
- Menterai perjanjian Anglo Malayan Defence Agreement (AMDA)

Mengapakah beliau bertindak sedemikian ?

- A Pengiktirafan dalam PBB
- B Meluaskan pasaran komoditi
- C Mengamalkan dasar berkecuali
- D Perkukuhkan pertahanan negara

21. Maklumat berikut berkaitan dengan ciri-ciri negara yang berdaulat.

Setiap negara yang bebas dan merdeka mempunyai ciri-ciri tertentu bagi menentukan kedaulatannya

Mengapakah rakyat perlu mempertahankan indentiti negara?

- A Meningkatkan pendapatan
- B Penghormatan negara luar
- C Pematuhan undang-undang
- D Mewujudkan perkongsian kuasa

22. Gambar berikut merupakan pertemuan antara Tun Hussein Onn dengan Anwar Sadat Presiden Mesir pada tahun 1977.



Apakah matlamat pertemuan tersebut diadakan?

- A Bantuan kewangan
- B Pemulihan ekonomi
- C Hubungan diplomatik
- D Mengukuh perpaduan

23. Pembentukan undang-undang dalam sesebuah negara dilakukan oleh badan yang sah dalam perundangan.

Apakah badan tersebut?

- A Jemaah Menteri
- B Kabinet Negeri
- C Majlis Negara
- D Parlimen

24. Mengapakah Tunku Abdul Rahman Putra al-Haj meminda perlembagaan pada tahun 1965?

- A Pemisahan Singapura
- B Menangani krisis kewangan
- C Pertambahan ahli Dewan Negara
- D Memantapkan kuasa perundangan

25. Manakah yang berikut merupakan fungsi Majlis Raja-Raja berdasarkan peruntukan Perlembagaan Persekutuan?

- I Memilih Yang di-Pertuan Agong
- II Meluluskan undang-undang tanah
- III Melantik Menteri Besar negeri Melayu
- IV Memberi nasihat pelantikan jawatan tertentu

- A I dan II
- B I dan IV
- C II dan III
- D III dan IV



26. Akhbar berikut merupakan bentuk kebebasan media yang menjadi saluran utama berita kepada rakyat.



Mengapakah kebebasan media yang diperuntukkan dalam perlembagaan tidak bersifat mutlak?

- A Mengelak campurtangan asing
- B Menjamin kesejahteraan awam
- C Mengukuh hubungan luar
- D Meluaskan pasaran

27. Jadual berikut berkaitan dengan antara Rancangan Pembangunan Koridor Wilayah selepas tahun 1970.

Rancangan Pembangunan Koridor Wilayah	Wilayah Liputan
2006 –Rancangan Pembangunan Iskandar atau South Johor Economic Region (SJER)	Selatan Johor
2007- Wilayah Koridor Utara atau Northern Coridor Economic Region (NCER)	Perlis, Kedah, Pulau Pinang, Utara Perak

Apakah kesan daripada kewujudan rancangan tersebut?

- A Keseimbangan kemajuan negeri
- B Peningkatan pusat pendidikan
- C Kelestarian alam sekitar
- D Pertambahan penduduk



28. Bagaimanakah Sistem Persekutuan dapat memberi kestabilan kepada negara?

- A Pengurusan tenaga kerja
- B Pemantapan parti politik
- C Pembahagian kuasa
- D Pemupukan budaya

29. Maklumat berikut berkaitan dengan proses pembentukan Malaysia.

Membentangkan usul pembentukan Malaysia di Dewan Rakyat pada 16 Oktober 1961
---

Mengapakah usul tersebut dibentangkan?

- A Desakan British
- B Mendapat sokongan
- C Tekanan dari negara jiran
- D Selaras dengan dasar dekolonisasi

30. Maklumat berikut berkaitan dengan pihak yang terlibat dalam Perjanjian Malaysia.

Perjanjian Julai 1963
• Persekutuan Tanah Melayu
• Sabah, Sarawak dan Singapura

Apakah prinsip utama dalam perjanjian tersebut?

- A Mengekalkan budaya setempat
- B Mewujud peluang pekerjaan
- C Mengiktiraf hak yang sama
- D Menghargai jasa pemimpin

31. Bagaimanakah tindakan kerajaan untuk menangani ancaman komunis selepas pembentukan Malaysia 1963?

- I Kempen Bulan Rakyat Melawan Penjahat
  - II Menyekat pergerakan Min Yuen
  - III Operasi Ketenteraan
  - IV Perang Saraf
- 
- A I dan II
  - B I dan IV
  - C II dan III
  - D III dan IV

32. Apakah isu pembangunan ekonomi yang ingin diatasi melalui Rancangan Malaysia Pertama 1966-1970?

- A Penyalahgunaan dadah
- B Pemerdagangan orang
- C Meningkatkan taraf hidup
- D Alam sekitar

33. Mengapakan tokoh berikut membuat pernyataan sedemikian?



" Kita mesti menggubal satu identiti bangsa Malaysia dengan mengambil kira semua kaum dan agama. Sudah tiba masanya untuk menentukan identiti dan keperibadian kebangsaan".

*Petikan ucapan Tun Abdul Razak Hussein ketika merasmikan Kongres Kebudayaan Kebangsaan*

- A Menstabil politik negara
- B Menjaga Maruah bangsa
- C Mematuhi dasar kerajaan
- D Mengelak campurtangan asing

34. Maklumat berikut berkaitan dengan penganjuran sukan di negara kita.

Jenis Penganjuran Sukan	Jumlah Negeri	Penganjuran Pertama
Sukan Malaysia (SUKMA)	<ul style="list-style-type: none"> <li>• 13 buah negeri</li> <li>• 3849 atlet</li> </ul>	<ul style="list-style-type: none"> <li>• 19 April 1986</li> <li>• Kuala Lumpur</li> </ul>

Apakah nilai yang diperolehi daripada penganjuran tersebut?

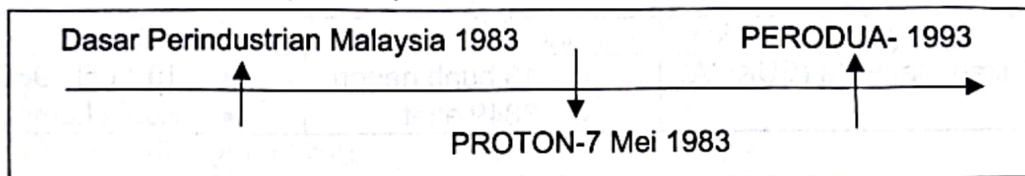
- A Berbudi bahasa
- B Bersatu padu
- C Kepatuhan
- D Kerajinan

35. Beberapa agensi kerajaan ditubuhkan untuk mempelbagaikan kegiatan ekonomi bagi menambah pendapatan rakyat.

Agensi manakah yang memainkan peranan tersebut?

- I Lembaga Penyatuan dan Pemulihan Tanah Persekutuan(FELCRA)
  - II Lembaga Minyak Sawit Malaysia(MPOB)
  - III Lembaga Kemajuan Ikan Malaysia(LKIM)
  - IV Lembaga Pertubuhan Peladang(LPP)
- 
- A I dan II
  - B I dan IV
  - C II dan III
  - D III dan IV

36. Garis masa berikut menunjukkan perlaksanaan dasar perindustrian negara.



Apakah kesan daripada perkembangan dasar tersebut?

- A Pemilikan saham bumiputera
- B Kewujudan bandar baharu
- C Kemajuan teknologi hijau
- D Peluang pekerjaan



37. Apakah faktor yang mempengaruhi penggabalan dasar luar Malaysia?

- I Ikatan sejarah
- II Keperluan nasional
- III Hubungan serantau
- IV Pengurusan pentadbiran

- A I dan II
- B I dan IV
- C II dan III
- D III dan IV


38. Mengapakah Malaysia menjalinkan hubungan dengan negara serantau?

- A Memantap sistem birokrasi
- B Melicinkan dasar pendidikan
- C Meningkatkan aspek keselamatan
- D Memudahkan urusan pinjam modal

39. Bagaimanakah Malaysia mengambil pendirian tegas dalam isu penyalahgunaan dadah peringkat global?

- A Memutus hubungan diplomatik dengan negara pengeluar
- B Menyuarakan kesungguhan dalam forum antarabangsa
- C Menghukum pesalah tanpa bicara
- D Membuat risikan antarabangsa

40. Logo berikut berkaitan dengan Kawasan Perdagangan Bebas ASEAN.



Mengapakah Malaysia menandatangani Perjanjian tersebut?

- A Meluaskan dasar baharu
- B Mengukuh keselamatan
- C Memajukan pelabuhan
- D Menjamin ekonomi

### KERTAS PEPERIKSAAN TAMAT